



E. M. E. F. DEZENOVE DE ABRIL
RUA DEZENOVE DE ABRIL, 245.
BAIRRO INDUSTRIAL. CEP: 95112165
FONE: (54) 3901-1314

PLANEJAMENTO REFERENTE A SEMANA 39 - DE 08 A 13/12/2025.

COMPONENTE CURRICULAR: CURRÍCULO INTEGRADO - TURMAS: 21 E 22 - INTEGRAL

PROFESSORAS: CAMILA MOREIRA WÄCHTER E LARISSA LAZZARI TONIETTO.

OBSERVAÇÕES: O PLANEJAMENTO DAS AULAS PODERÁ SOFRER ALTERAÇÕES CONFORME A NECESSIDADE DO PROFESSOR(A).

ORIENTAÇÕES: REALIZE AS ATIVIDADES COM DEDICAÇÃO, CONCENTRAÇÃO E CAPRICHOS.

CAXIAS DO SUL, 08 DE DEZEMBRO DE 2025 - SEGUNDA-FEIRA.

TARDE:

Boa Tarde


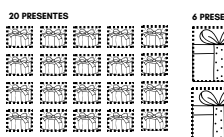

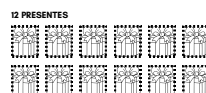
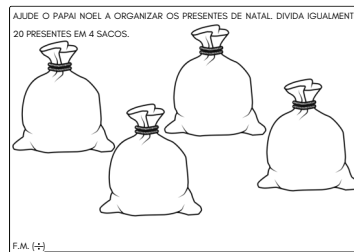
AULA DE EDUCAÇÃO FÍSICA (TURMA 21).

AULA DE EDUCAÇÃO FÍSICA (TURMA 22).



HORA DO CONTO (TURMA 22).

1) Atividade sobre divisão.



MANHÃ:

Bom dia

AULA DE ARTE (TURMA 21)

PROJETO (TURMA 22).


AULA DE ARTE (TURMA 22).



1) Ontem, na aula de Hora do Conto, a Profe Arivone contou a história “Um Papai Noel e Uma Dúzia de Cores”, então agora você vai realizar as atividades sobre a história.

RESPONDA AS PERGUNTAS DE ACORDO COM A HISTÓRIA “UM PAPAI NOEL E UMA DÚZIA DE CORES”.

1. QUANTAS CORES APARECERAM NA HISTÓRIA? _____
2. SEGUNDO O NARRADOR, QUAL É O MÊS MAIS LEGAL DO ANO? _____
3. O QUE ACONTECE EM DEZEMBRO QUE É ESPECIAL? _____
4. COMO ELE DESCREVE O NOEL?
() RABUGENTO.
() SIMPÁTICO.
() FELIZ.
5. QUAL COR VOCÊ ACHA QUE COMBINA MAIS COM O PAPAI NOEL? JUSTIFIQUE SUA RESPOSTA. _____
6. QUAL É A SUA COR FAVORITA?
PINTE O PAPAI NOEL AO LADO COM ELA.



7. PINTA CADA MÊS DO ANO COM A COR QUE O PAPAI NOEL VESTIU.

JANEIRO MAIO SETEMBRO

FEVEREIRO JUNHO OUTUBRO

MARÇO JULHO NOVEMBRO

ABRIL AGOSTO DEZEMBRO

8. LOGO NO INÍCIO DO LIVRO, O NARRADOR DIZ: “TODOS OS MESES SÃO IMPORTANTES, CADA UM COM UMA DATA MARCANTE”. ESCRVA UMA DATA MARCANTE DE CADA MÊS DO ANO.

JANEIRO	FEVEREIRO	MARÇO	ABRIL
MAIO	JUNHO	JULHO	AGOSTO
SETEMBRO	OUTUBRO	NOVEMBRO	DEZEMBRO

TARDE:

Boa Tarde

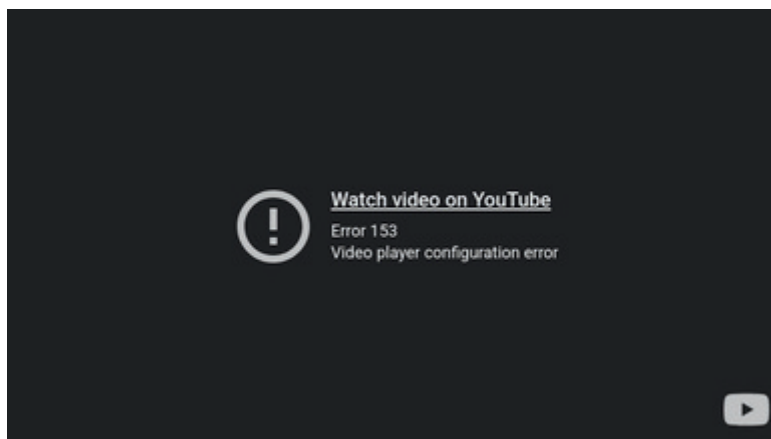
AULA DE TECNOMÍDIAS (TURMA 21)

AULA DE TECNOMÍDIAS (TURMA 22).

PROJETO (TURMA 22).



1) **EDUCAÇÃO PARA A VIDA:** Assistir o vídeo “A História do Natal”



2) Pintura coletiva do presépio na versão Bobbie Goods



MANHÃ:

Bom dia

PROJETO (TURMA 21).

AULA DE INGLÊS (TURMA 21).

AULA DE INGLÊS (TURMA 22).



1) Confeção da guirlanda natalina.



TARDE:

Boa Tarde



AULA DE EDUCAÇÃO FÍSICA (TURMA 21).


PROJETO (TURMA 21).

AULA DE EDUCAÇÃO FÍSICA (TURMA 22).




1) Atividade de multiplicação: enfeitando os pinheiros.






QUANTOS PINHEIROS?	QUANTAS BOLINHAS EM CADA PINHEIRO?	TOTAL DE BOLINHAS
	3	

F.M. (+) _____
F.M. (X) _____




QUANTOS PINHEIROS?	QUANTAS BOLINHAS EM CADA PINHEIRO?	TOTAL DE BOLINHAS
	3	

F.M. (+) _____
F.M. (X) _____




QUANTOS PINHEIROS?	QUANTAS BOLINHAS EM CADA PINHEIRO?	TOTAL DE BOLINHAS
	3	

F.M. (+) _____
F.M. (X) _____




QUANTOS PINHEIROS?	QUANTAS BOLINHAS EM CADA PINHEIRO?	TOTAL DE BOLINHAS
	3	

F.M. (+) _____
F.M. (X) _____




QUANTOS PINHEIROS?	QUANTAS BOLINHAS EM CADA PINHEIRO?	TOTAL DE BOLINHAS
	3	

F.M. (+) _____
F.M. (X) _____




QUANTOS PINHEIROS?	QUANTAS BOLINHAS EM CADA PINHEIRO?	TOTAL DE BOLINHAS
	3	

F.M. (+) _____
F.M. (X) _____




QUANTOS PINHEIROS?	QUANTAS BOLINHAS EM CADA PINHEIRO?	TOTAL DE BOLINHAS
	3	

F.M. (+) _____
F.M. (X) _____




QUANTOS PINHEIROS?	QUANTAS BOLINHAS EM CADA PINHEIRO?	TOTAL DE BOLINHAS
	3	

F.M. (+) _____
F.M. (X) _____



QUANTOS PINHEIROS?	QUANTAS BOLINHAS EM CADA PINHEIRO?	TOTAL DE BOLINHAS
	3	

F.M. (+) _____
F.M. (X) _____



QUANTOS PINHEIROS?	QUANTAS BOLINHAS EM CADA PINHEIRO?	TOTAL DE BOLINHAS
	3	

F.M. (+) _____
F.M. (X) _____

CAXIAS DO SUL, 11 DE DEZEMBRO DE 2025 - QUINTA-FEIRA.

MANHÃ:

Bom dia

AULA DE INGLÊS (TURMA 21).

AULA DE ARTE (TURMA 22).

English

1) PRODUÇÃO TEXTUAL: Organização dos cadernos de produção textual.




TARDE:

Boa Tarde

AULA DE TECNOMÍDIAS (TURMA 21).

HORA DO CONTO (TURMA 21).

AULA DE TECNOMÍDIAS (TURMA 22).



1) Finalizar as atividades que ficaram pendentes no livros didáticos de Língua Portuguesa e Matemática.


CAXIAS DO SUL, 12 DE DEZEMBRO DE 2025 - SEXTA-FEIRA.

MANHÃ:

Bom dia

AULA DE ARTE (TURMA 21).

AULA DE INGLÊS (TURMA 22).



1) Projeto Semeando Saúde - Visita do Tio Tomate e da Tia Saladinha - Oficina de Culinária.

2) Troca de livros na biblioteca e hora da leitura:

- Turma 21 - 2º período
- Turma 22 - 3º período.

CAXIAS DO SUL, 13 DE DEZEMBRO DE 2025 - SÁBADO.



RESPONDA AS PERGUNTAS DE ACORDO COM A HISTÓRIA “UM PAPAI NOEL E UMA DÚZIA DE CORES”.

1. QUANTAS CORES APARECERAM NA HISTÓRIA? _____

2. SEGUNDO O NARRADOR, QUAL É O MÊS MAIS LEGAL DO ANO? _____

3. O QUE ACONTECE EM DEZEMBRO QUE É ESPECIAL?

4. COMO ELE DESCREVE O NOEL?

() RABUGENTO.

() SIMPÁTICO.

() FELIZ.

5. QUAL COR VOCÊ ACHA QUE COMBINA MAIS COM O PAPAI NOEL? JUSTIFIQUE SUA RESPOSTA. _____

6. QUAL É A SUA COR FAVORITA?

PINTE O PAPAI NOEL AO LADO COM ELA.



7. PINTE CADA MÊS DO ANO COM A COR QUE O PAPAI NOEL VESTIU.

JANEIRO

MAIO

SETEMBRO

FEVEREIRO

JUNHO

OUTUBRO

MARÇO

JULHO

NOVEMBRO

ABRIL

AGOSTO

DEZEMBRO

8. LOGO NO INÍCIO DO LIVRO, O NARRADOR DIZ: “*TODOS OS MESES SÃO IMPORTANTES, CADA UM COM UMA DATA MARCANTE*”. ESCREVA UMA DATA MARCANTE DE CADA MÊS DO ANO.

JANEIRO

FEVEREIRO

MARÇO

ABRIL

MAIO

JUNHO

JULHO

AGOSTO

SETEMBRO

OUTUBRO

NOVEMBRO

DEZEMBRO



