



EMEF. DEZENOVE DE ABRIL.

ATIVIDADE REFERENTE A SEMANA 33– 27/10/25 a 31/10/25.

COMPONENTE CURRICULAR: Geografia TURMA:82

PROFESSOR(A): Marli de Almeida

OBSERVAÇÕES: O planejamento da aula poderá sofrer alterações conforme a necessidade do professor(a).

ORIENTAÇÕES: Fazer as atividades com atenção.

INÍCIO: Questionamento sobre o que a turma sabe de mercosul DESENVOLVIMENTO:

MERCOSUL

O Mercado Comum do Sul, ou Mercosul, é um bloco econômico sul-americano formado por Brasil, Argentina, Uruguai, Paraguai e outros países associados. O mercado foi formalmente estabelecido em 1991, com o objetivo de criar um mercado comum, promovendo a livre circulação de pessoas, mercadorias, capitais e serviços, além de fortalecer os laços econômicos entre os países.

Países do Mercosul

Atualmente, o Mercosul é composto por Estados Partes, que são quatro: Argentina, Brasil, Paraguai e Uruguai, os quais possuem voz e voto. Existem também os Estados Associados, que participam das discussões e de alguns acordos com o bloco, mas não têm poder de decisão.

Estados partes



Estados associados



A Venezuela, que aderiu ao bloco em 2012, foi suspensa por volta de 2016, pois o país não estava cumprindo os objetivos traçados. Já a Bolívia está em processo de adesão para se tornar um Estado Parte, com todos os direitos e deveres do bloco.

O Mercosul é uma comunidade de países sul-americanos que visa trabalhar em conjunto e promover o comércio entre os seus membros. Em vez de cada país agir isoladamente, os países trabalham juntos, buscando o desenvolvimento coletivo.

Os principais objetivos do Mercosul são:

- Facilitar o fluxo de produtos e serviços entre os países do grupo, ou seja, comprar e vender mercadorias com menos impostos e barreiras.
- Criar uma união aduaneira, o que significa que eles usam tarifas parecidas para produtos vindos de fora do grupo. Isso ajuda a proteger as economias dos países-membros.
- O Mercosul funciona como uma **união aduaneira**, que é um tipo de acordo entre países para facilitar o comércio entre eles. Esse acordo objetiva:

Reduzir ou eliminar tarifas aduaneiras

Imagine que cada vez que um país vende um produto para outro, precisa pagar uma "taxa de entrada" (isso é a tarifa aduaneira).

No Mercosul, os países combinam de padronizar essas taxas entre eles. Assim, é mais fácil e barato comprar e vender produtos uns com os outros.

Tarifa Externa Comum (TEC)

Se um país que não faz parte do Mercosul quer vender algo para um país do grupo, todos os países do Mercosul cobram a mesma taxa desse país de fora.

Essa taxa igual para todos é chamada de Tarifa Externa Comum (TEC).

Como funciona essa união?

Livre comércio entre os países-membros – produtos e serviços podem circular com mais liberdade, pagando menos taxas.

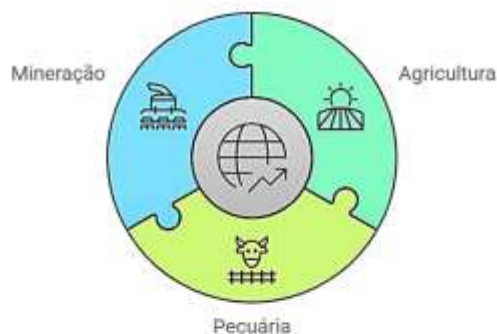
Quem pode participar?

✓ Só países com governos democráticos (respeitam eleições e liberdade). Se algum país não respeitar essas regras, ele pode ser suspenso.

O Tratado de Assunção é um acordo fundamental que estabeleceu as bases para a criação do Mercado Comum do Sul (MERCOSUL), assinado em 1991 por Argentina, Brasil, Paraguai e Uruguai. Ele define as condições gerais para a integração econômica entre os países membros.

Economia do Mercosul

Atualmente, os países do Mercosul reúnem uma população de aproximadamente 295 milhões de habitantes e um PIB de mais de 2 trilhões de dólares. As economias são diversificadas e complementares, no entanto, podemos dizer que os setores de agricultura, pecuária e mineração são destaque.



Desde a sua criação, o comércio entre os países-membros do Mercosul cresceu significativamente. Desse modo, o bloco vem se tornando o maior exportador mundial de açúcar, soja e carne bovina.

Setores industriais como automobilístico, petróleo, agricultura e têxtil estão presentes, especialmente no Brasil e na Argentina, enquanto o setor de comércio e serviços experimenta rápida expansão em áreas como educação, turismo, alimentos e tecnologia. Mesmo com esse crescimento, esse setor ainda é considerado frágil, ou seja, não é totalmente estável. Isso acontece por alguns motivos depende muito das condições da economia (se o país vai bem ou mal financeiramente).

<https://www.mercosur.int/pt-br/quem-somos/paises-do-mercopol/>
<https://www.to damateria.com.br/mercopol/>
<https://brasilescola.uol.com.br/geografia/mercopol.htm>
 Adaptado por Érica Sousa, Tudo Sala de Aula.

Atividade

1. Observe a imagem para responder à questão.



a) Conforme o mapa, atualmente, quais são os países membros plenos do Mercosul?

b) Conforme o mapa, qual país foi suspenso do Mercosul? Justifique sua resposta.

2. O principal objetivo do Mercosul é:

- desenvolver o livre comércio entre Brasil, Paraguai e Argentina.
- desenvolver uma moeda padrão para todos os países membros.
- promover a livre circulação de pessoas, mercadorias, capitais e serviços entre os países membros.
- desenvolver a economia, a política, os campos social e cultural através da integração dos países envolvidos e subdesenvolvidos.

3. O Mercosul possui uma tarifa aduaneira, logo, isso significa dizer que os países

- promovem a livre circulação de mercadorias apenas nos países membro do grupo.
- usam apenas o dólar nas trocas comerciais e de serviços da população.
- cobram tarifas diferentes para produtos e serviços vindos de fora do grupo.
- usam tarifas padronizadas para produtos vindos de fora do grupo.

4. Qual dos seguintes países abaixo é um Estado Parte do Mercosul?



5. Observe o mapa apresentado na questão 1 e, com base nele, pinte o mapa abaixo destacando os países que fazem parte do Mercosul.

Legenda:

- Pinte de azul os Estados partes.
- Pinte de vermelho o país suspenso.
- Pinte de verde os Estados Associados.



5. Procure no diagrama abaixo o nome dos Estados partes e dos Estados associados do Mercosul, depois, escreva.



Z N N A E O H H X M H S R D E X S O T E C O
U O E D S O O U H N L I W N H S C O E D E B
A A E S G E E D E D C H N E L T E H S R O W
L T A P A E Y Q E A O N L O E C R A G Y F G
I I A R N L A T U M V U S U W O S O T E T I
A R E W I N A V I A U G U R U L A S E A H E
U C N I T H M H F N D T E U A O T Y E O C E
G E H A N R U E K A E O N M P M T S L T R W
A W D G E A H C T P M O R O T B T N C H D E
R C E M G F O H E B E H A O E I A N H Y O R
A O E H R F S H R T R S G U I A N A I T V A
P V A D A R S A U P T I O D M M E F L E T T
A E M S N H S T T K L A H O A F S H E F E E
B C R P I I C P A N E L B H C H O O T E M S
L O H N L E H I S U R I N A M E A A A V T P
I T E S O I O I O A L G O A E I E L I Y A T

ARGENTINA CHILE EQUADOR PANAMÁ SURINAME
BRASIL COLOMBIA GUAYANA PARAGUAI URUGUAI

Estados membros

Estados associados

7. O Mercosul é formado atualmente por quatro países-membros. Qual dos países abaixo NÃO faz parte do bloco?

- Argentina.
- Brasil.
- chile.
- Paraguai.

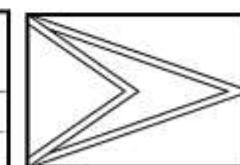




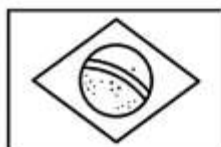
8. Além dos quatro países-membros, o Mercosul possui um conjunto de países associados, que participam indiretamente das políticas empreendidas pelo bloco. Um membro associado do Mercosul é o (a)

- México.
- Panamá.
- Austrália.
- Rússia.

9. Atualmente, o Mercosul é compreendido como um grupo de países que busca atuar de forma conjunta. Esse bloco pode ser considerado uma

- maneira de reduzir os preços elevados nos países da América do Sul.
- união de propostas econômicas com o objetivo de competir entre si.
- organização que utiliza a mesma moeda em todos os seus países.
- forma de promover a aproximação entre os países que o compõem.

10. Pinte as bandeiras dos países que fazem parte do Mercosul, em seguida, escreva o nome desses países.





11. O que é o Mercosul?

12. O país mais forte economicamente do Mercosul possui uma indústria bastante variada e exporta muitos produtos naturais. No comércio com os outros países do grupo, dá preferência à venda de produtos industrializados e diferentes tipos de serviços. Mesmo enfrentando uma séria dificuldade econômica, continua entre as nações mais importantes do planeta no aspecto financeiro.



<https://www.poder360.com.br/economia/brasil-resposta-por-72-do-pib-nominal-do-mercado/>

Qual é esse país mencionado no texto, que tem a economia mais poderosa do Mercosul?

- a) Argentina.
- b) Brasil.
- c) Chile.
- d) Uruguai.

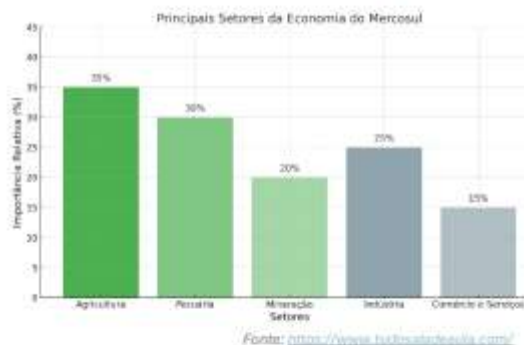
13. Qual Estado está em processo de adesão para se tornar um Estado Parte?

14. O que é uma união aduaneira? E como ajuda os países membros do grupo?

15. Explique com suas palavras o que é a Tarifa Externa Comum (TEC) e para que ela serve dentro do Mercosul.

16. Quem pode participar do grupo do Mercosul?

17. Observe a imagem para responder à questão.



Com base no texto e nos dados apresentados nos gráficos, quais são os principais setores da economia do Mercosul? Quais desses setores se destacam mais e quais têm menor relevância? Explique sua resposta utilizando as informações fornecidas.

18. O que é o Tratado de Assunção?

Tudo Sala de Aula

FIXAÇÃO: corrigir

Brasil e América Latina

A América Latina é composta por 20 países, abrangendo territórios da América do Sul, América Central e apenas um da América do Norte: o México. Com uma população aproximada de 660 milhões de habitantes, a maior concentração populacional está no Brasil, México e Argentina. Embora compartilhem aspectos históricos, os países latino-americanos apresentam grande diversidade em qualidade de vida e desenvolvimento econômico, refletindo diferentes realidades sociais e culturais na região.



A economia da América Latina é marcada pela desigualdade social e pela predominância de países subdesenvolvidos. O setor primário se destaca, com a agricultura e a mineração, enquanto alguns países, como Brasil, Argentina, Chile e México, também têm força na indústria. A extração de petróleo é relevante em nações como Venezuela e Colômbia. O setor de serviços foi o que mais cresceu nas últimas décadas. Brasil, México e Argentina concentram cerca de 75% do PIB da região.

O Brasil lidera a América Latina por reunir uma série de fatores estratégicos que fortalecem sua posição na região. Sua economia é a mais robusta da América Latina, sendo responsável, junto com o México, por mais da metade do PIB latino-americano. No cenário internacional, o país tem participação ativa em fóruns importantes como o G20 e os BRICS, o que amplia sua influência nas decisões globais. Além disso, sua rica diversidade cultural e ambiental atrai turistas e investidores, aumentando seu prestígio mundial. Projeções econômicas apontam ainda que o Brasil poderá alcançar o status de economia rica até 2028, o que representaria um avanço histórico e consolidaria ainda mais sua liderança no continente.

<https://www.todamateria.com.br/america-latina/>

<https://www.gizmodo.com.br/brasil-e-o-pais-mais-influente-da-america-latina-saiba-por-que-2108>

(Adaptado por Tudo Sala de Aula)

Atividades

1. Observe a imagem abaixo e responda.



Quais são os três países da América Latina que concentram a maior parte da população da região?

2. Que característica marca a economia da América Latina?

- a) Alto desenvolvimento tecnológico em todos os países.
- b) Igualdade social e distribuição equilibrada de renda.
- c) Forte presença de economias totalmente industrializadas.
- d) Predominância de países subdesenvolvidos e desigualdade social.

3. Qual é a principal razão para o Brasil ter destaque econômico na América Latina?

- a) Possui localização geográfica estratégica.
- b) Apresenta diversidade religiosa marcante.
- c) Possui economia forte e expressiva.
- d) Destaca-se por suas praias e turismo.

4. O Brasil participa ativamente de dois grandes grupos internacionais: o G20 e os BRICS. Essa atuação permite que o país

- a) tenha influência nas decisões globais.
- b) seja destaque apenas na economia mundial.
- c) apresente redução do PIB na América Latina.
- d) perca força nas relações econômicas.

5. Segundo o texto, quais são as projeções econômicas para o Brasil em 2028?

6. Em quais setores da economia o Brasil se destaca na América Latina?

- Apenas no setor primário, com foco na agricultura e pesca.
- No setor primário e secundário, com destaque para a indústria.
- No setor terciário, com forte presença de comércio e serviços.
- Em todos os setores, com ênfase na extração de petróleo.

Leia o trecho a seguir para responder à questão 7.

Diversos indicadores são utilizados para medir o desenvolvimento econômico e social de um país, como o PIB, a taxa de desemprego, o IDH, a distribuição de renda e o acesso a serviços básicos. Esses dados ajudam a identificar padrões e oportunidades de melhoria.

7. Com base nessas informações, qual conjunto de fatores é comumente usado para avaliar o nível de desenvolvimento de um país?

8. Leia o texto e responda.

O Índice de Desenvolvimento Humano (IDH) considera três indicadores principais: expectativa de vida, escolaridade e renda per capita (PIB por habitante). De 2010 a 2023, o Brasil teve crescimento médio anual de 0,38%. Desde 1990, o avanço foi de 0,62% ao ano. No ranking ajustado divulgado neste ano, o avanço foi de duas posições, ultrapassando a Moldávia e empatando com Palau. Quando se considera a desigualdade social, o IDH do Brasil cai de 0,786 para 0,594. Com isso, o país ocupa a 105ª colocação e passa para a categoria de desenvolvimento médio.

As mulheres brasileiras têm IDH de 0,785, ligeiramente acima dos homens (0,783). Elas apresentam melhor expectativa de vida e escolaridade, mas ficam atrás na renda.

No IDH ajustado pela pegada de carbono, o Brasil tem nota de 0,702 e ocupa a 77ª posição global. O país se destaca positivamente nesse critério.

<https://primeirapagina.com.br/cidadania/relatorio-da-onu-brasil-sobre-no-idh-mas-desigualdade-e-obstaculo/>

a) Ao se considerar a desigualdade social, o que ocorre com o IDH do Brasil?

b) Em que aspectos as mulheres brasileiras apresentam vantagens sobre os homens, segundo o IDH?

9. Analise a imagem abaixo que destaca o comparativo do Índice de Desenvolvimento Humano (IDH) do Brasil e demais países entre 2024 e 2025.

Ranking 2024	IDH	Ranking 2025	IDH
85º Cuba	0,764	79º Peru	0,794
86º Moldávia*	0,763	80º Granada	0,791
87º Maldivas	0,762	81º Azerbaijão	0,789
Peru	0,762	81º México	0,789
89º Azerbaijão	0,760	83º Colômbia	0,788
89º Brasil	0,760	84º Brasil	0,786
91º Colômbia	0,758	84º Palau	0,786
92º Líbia	0,746	86º Moldávia*	0,785
93º Argélia	0,745	87º Ucrânia	0,779
94º Turquemenistão	0,744	88º Equador	0,777
95º Guiana	0,742	89º R. Dominicana	0,776

*República da Moldávia

g1 Fonte: Programa das Nações Unidas para o Desenvolvimento (PNUD) - ONU
Infográfico elaborado em: 06/05/2025

De acordo com suas observações, o que ocorreu com o IDH do Brasil?

- O IDH se manteve estável.
- O IDH do país cresceu no ranking.
- O IDH sofreu uma queda.
- O país subiu mais de dez posições.

10. Com base nos dados do IDH do Brasil em 2025, apresentados na questão 9 e nos parâmetros da tabela abaixo, classifique o nível de desenvolvimento do país.

Índice de Desenvolvimento Humano - IDH	
	muito alto (mais de 0,800)
	alto (de 0,700 a 0,799)
	médio (de 0,555 a 0,699)
	baixo (menos que 0,555)
	sem dados

Tudo Sala de Aula

